

T.C.
MİLLÎ EĞİTİM BAKANLIĞI
ÖLÇME, DEĞERLENDİRME VE
SINAV HİZMETLERİ GENEL MÜDÜRLÜĞÜ

AÇIK ÖĞRETİM ORTAOKULU
2025 - 2026 ÖĞRETİM YILI
1. DÖNEM SINAVI



20 ARALIK 2025 Saat: 10.00



DERSLER	SAYFA	DERSLER	SAYFA
(550) TÜRKÇE – 5	3	(730) TÜRKÇE – 7	14
(551) MATEMATİK – 5	4	(731) MATEMATİK – 7	15
(552) FEN BİLİMLERİ – 5	6	(732) FEN BİLİMLERİ – 7	17
(633) SOSYAL BİLGİLER – 6	8	(834) T.C. İNKILAP TARİHİ VE ATATÜRKÇÜLÜK – 8	18
(634) İNGİLİZCE – 6	9	(835) İNGİLİZCE – 8	19
(634) ALMANCA – 6	10	(835) ALMANCA – 8	20
(634) FRANSIZCA – 6	11	(835) FRANSIZCA – 8	21
(635) DİN KÜL. VE AHLAK BİLGİSİ – 6	12	(836) DİN KÜL. VE AHLAK BİLGİSİ – 8	22

ADAYLARIN DİKKATİNE!

- Her ders için 10 soru bulunmaktadır. Bu oturumda **100** dakikalık cevaplama süreniz vardır. Sınavın ilk **30** dakikası tamamlanmadan ve sınav bitimine **15** dakika kala salon dışına çıkmayınız.
- Kullanımı doktor raporu ile belirlenen hasta veya engellilere ait cihazlar ve ilaçlar, anahtarlıksız basit anahtar, ulaşım kartları, para, alyans, şeffaf pet şişe içerisinde bandajı çıkarılmış su ve şeffaf numaralı gözlük hariç; her türlü kesici ve delici alet, ateşli silah, çanta, cüzdan, cep telefonu, her türlü saat, anahtarlık, elektronik anahtar, kablosuz iletişim sağlayan cihaz, kulaklık, kolye, küpe, bilezik, yüzük, broş ve diğer takılar, her türlü plastik, metal ve cam eşya, banka kredi kartları, her türlü elektronik ve mekanik cihaz, her türlü müsvedde kâğıt, defter, ders notu, kitap, sözlük, dergi, gazete ve benzeri yayınlar, cetvel, pergel, açölçer ve benzeri araçlar, yiyecek, içecek ve diğer tüketim maddeleri yanınızda bulundurmayınız. Bu araçları/maddeleri yanınızda bulundurmanız ve kopya çekmeye teşebbüs etmeniz hâlinde sınavınız geçersiz sayılacaktır.
- Başvuru şartlarını taşımadığınız hâlde sınava girmeniz, kopya çekmeniz, başka adayın sınav evrakını kullanmanız ve geçerli kimlik belgenizi ibraz edemediğiniz durumlarda sınavınız geçersiz sayılacaktır.
- Sınavın değerlendirilmesi aşamasında, bilgisayar ortamında yapılan kopya analizinde sistemin ikili ve/veya toplu kopya tespiti hâlinde sınavınız geçersiz sayılacaktır.
- Adaylar, sınav kurallarına ve salon görevlilerinin tüm uyarılarına uymak zorundadır. Kurallara ve uyarılara uymayan adayların sınavları geçersiz sayılacaktır.**
- Sınav başladıktan sonra adayların salon görevlileri ve birbirleri ile konuşmaları; kalem, silgi vb. şeyleri istemeleri yasaktır.
- Adaylar sınav süresince, sınav giriş belgesi ile geçerli kimlik belgelerinden birini masalarının üzerinde bulundurmamak zorundadır.
- Sınav evraklarını teslim etmeyen, soru kitapçıklarının sayfalarından bir kısmını eksik teslim edenlerin sınavları geçersiz sayılacaktır.**
- Sınav başlamadan önce kitapçığın arkasındaki açıklamaları okuyunuz.

BAŞLAYINIZ DENMEDEN SORU KİTAPÇIKLARINI AÇMAYINIZ.



1. OTURUM

(550) TÜRKÇE – 5

1. “Kış geldi sayılır, güneş bugün var yarın yok.”
cümlesindeki altı çizili sözcükler arasındaki
anlam ilişkisi aşağıdakilerden hangisidir?

- A) Eş anlamlılık (Anlamdaşlık)
- B) Eş seslilik (Sesteşlik)
- C) Zıt (Karşıt) anlamlılık
- D) Yakın anlamlılık

2. (1) Maydanozgillerden kereviz çok acayip ve farklı bir sebzedir. (2) Kereviz gibi başka bir bitki bulmak gündüz gözüyle ateş böceği görmek kadar zordur. (3) Bir kere hem kökü hem de yaprakları yenebilir. (4) Üstelik haşlasanız bile vitaminlerini kaybetmez.

Bu parçadaki numaralanmış cümlelerin hangilerinde kişisel bir görüşe yer verilmiştir?

- A) 1 ve 2
- B) 1 ve 4
- C) 2 ve 3
- D) 3 ve 4

3. “İyi bir marangoz olmak istiyor ama - - - -.” cümlesi anlamca aşağıdakilerden hangisiyle tamamlanabilir?

- A) bunun için kursa gidiyor
- B) bir çiviye bile zor çakıyor
- C) bütün ağaç türlerini tanıyor
- D) yetenekleri bu mesleğe uygun

4. Al elmalar yeşil dalı eğince
Yaprakların ucu yere değince
Bak o zaman topraktaki sevince

Bu dizelerde kişileştirilen varlık aşağıdakilerden hangisidir?

- A) Dal
- B) Elma
- C) Yaprak
- D) Toprak

5. Aşağıdaki cümlelerin hangisinde yazım yanlışı yoktur?

- A) Geçen sene Mart ayında birçok festival düzenlenmişti.
- B) Nisa Hanım, sokak kedilerini hergün beslerdi.
- C) Şehrin en güzel simgelerinden biride bu heybetli dağı.
- D) Akşama doğru Atatürk Bulvarı üzerindeki mağazaya uğradı.

6. Kiraz yaylalarının her bir köşesinde birbirinden güzel pınarlar çıkardı karşımıza () Bu pınarların, insanın içini buz kestiren soğuk suları () insanı kendinden alıp götüren şırlıtısı () Yaylaya çıktığımızda arkadaşlarla bir pınar başında oturur () uzun uzun sohbet ederdik.

Bu parçada yay ayraçla gösterilen yerlere gelmesi gereken noktalama işaretleri aşağıdakilerin hangisinde sırasıyla verilmiştir?

- A) (,) (,) (,) (;)
- B) (,) (,) (...) (,)
- C) (;) (;) (:) (,)
- D) (,) (...) (,) (;)

7. 1. En belirgin özellikleri vücutları, kanatları ve hortumlarının pullarla bezeli olmasıdır.
2. Kanatların üzerlerini kaplayan farklı renklerde, farklı açılarla yerleşmiş pullar kanat desenlerini oluşturur.
3. Dünyada 126 familyaya ait yaklaşık 180 bin kelebek türü tanımlanmıştır.
4. Bu desenler kelebeklerin tanımlanmasında oldukça önemlidir.

Numaralanmış cümlelerle anlamlı bir metin oluşturulduğunda hangisi baştan ikinci olur?

- A) 1
- B) 2
- C) 3
- D) 4

1. OTURUM

8. Birçoğunuz kışın yolları tuzlayan araçlar görmüşsünüzdür. Peki, bunun sebebini hiç merak ettiniz mi? Buz, 0°C'nin üzerinde erimeye başlar. Hava sıcaklığı sıfır derecenin altındayken buzun erimesi için buz başka bir maddeyle karıştırmak gerekir. Tuz, buzun erimesini sağlayan maddelerden biridir. Buzun erimesiyle oluşan tuzlu su da 0°C sıcaklık altında donmadan kalabilmektedir. Bu yüzden gerek buzlanmayı sonlandırmak gerekse buzlanmanın oluşmasını engellemek için kışın yollara tuz dökülür.

Bu parça aşağıdaki sorulardan hangisine yanıt vermek amacıyla yazılmıştır?

- A) Tuzlu su kaç derecede donar?
B) Buzun erimesi için neler yapılmalıdır?
C) Kışın yollara niçin tuz dökülür?
D) Sıcaklık kaç dereceyken yolda buzlanma olur?

9. Medya; gazete, dergi, radyo, televizyon ve genel ağ gibi kitle iletişim araçlarının tümünü kapsayan genel bir terimdir. Günümüzde medya, iletişimi sağlayan unsurların başında gelir. Özellikle genel ağın sağladığı özgür ve geniş alan sayesinde kitleler seslerini daha kolay duyurmaya başlamıştır. Medyanın, sosyal iletişim ve etkileşim gücü artmıştır. Bu gelişmeler günümüzde "sosyal medya" ve "dijital medya" kavramlarını ortaya çıkarmıştır.

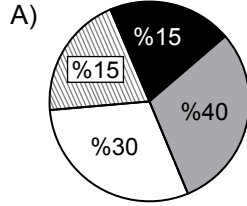
Bu parçanın anlatımında kullanılan düşünceyi geliştirme yolları aşağıdakilerin hangisinde verilmiştir?

- A) Karşılaştırma - Benzetme
B) Örneklendirme - Tanımlama
C) Örneklendirme - Benzetme
D) Tanımlama - Karşılaştırma

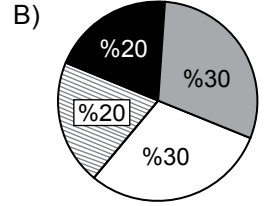
10. Bir okul kütüphanesindeki kitapların türlere göre dağılımı şu şekilde verilmiştir:

- Roman türündeki kitapların sayısı en fazladır.
- Şiir kitaplarının sayısı öykü kitaplarının sayısından azdır.
- Öykü kitaplarının sayısı masaldan fazladır.

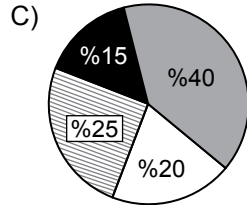
Bu bilgilere göre kütüphanedeki kitapların türlerine göre dağılımını gösteren grafik aşağıdakilerden hangisidir?



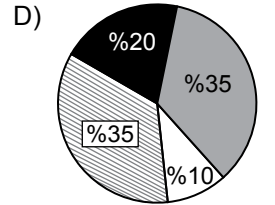
■ Roman □ Öykü
▨ Masal ■ Şiir



■ Roman □ Öykü
▨ Masal ■ Şiir



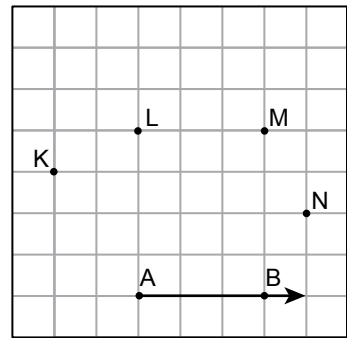
■ Roman □ Öykü
▨ Masal ■ Şiir



■ Roman □ Öykü
▨ Masal ■ Şiir

(551) MATEMATİK – 5

1. Kareli zemin üzerinde [AB ve K, L, M, N noktaları verilmiştir.

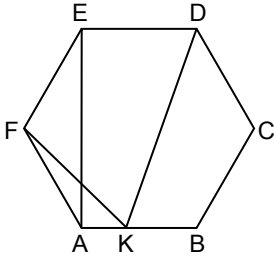


Buna göre, A noktası hangi nokta ile birleştirilirse [AB ile oluşan açı geniş açı olur?

- A) K B) L C) M D) N

1. OTURUM

2.



Şekildeki ABCDEF çokgeni ile ilgili aşağıdakilerden hangisi yanlıştır?

- A) 6 tane köşesi vardır.
B) İç açılarından biri \widehat{FKD} dir.
C) Köşegenlerinden biri [EA] dir.
D) Kenarlarından biri [BC] dir.

3. 7 804 037 537 doğal sayısının milyonlar bölümündeki sayının rakamları toplamı kaçtır?

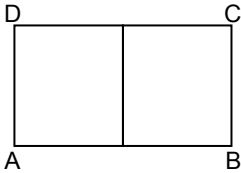
- A) 7 B) 10 C) 12 D) 15

4. Ahmet 38 yaşındadır.

Ahmet babasından 24 yaş küçük olduğuna göre, ikisinin yaşları toplamı kaçtır?

- A) 86 B) 90 C) 94 D) 100


5. Aralarında boşluk kalmayacak ve üst üste gelmeyecek şekilde iki eş kare birleştirilerek ABCD dikdörtgeni oluşturulmuştur.



ABCD dikdörtgeninin alanı 32 cm^2 olduğuna göre, çevresi kaç santimetredir?

- A) 16 B) 24 C) 28 D) 32

6. Eş parçalardan oluşan aşağıdaki dikdörtgende bu parçalardan bazıları boyanarak bir kesir modeli elde edilmiştir.



Buna göre, bu parçalardan 7 tanesi daha boyanırsa boyalı parçalara karşılık gelen kesir aşağıdakilerden hangisi olur?

- A) $\frac{1}{5}$ B) $\frac{2}{5}$ C) $\frac{3}{5}$ D) $\frac{4}{5}$

7. $1\frac{1}{3}$, $\frac{3}{5}$ ve $\frac{3}{2}$ kesirlerinin küçükten büyüğe sıralanışı aşağıdakilerden hangisidir?

- A) $1\frac{1}{3} < \frac{3}{5} < \frac{3}{2}$ B) $1\frac{1}{3} < \frac{3}{2} < \frac{3}{5}$
C) $\frac{3}{2} < \frac{3}{5} < 1\frac{1}{3}$ D) $\frac{3}{5} < 1\frac{1}{3} < \frac{3}{2}$

8. $(3^3 + 5) \div 4^2$ işleminin sonucu kaçtır?

- A) 2 B) 4 C) 6 D) 8

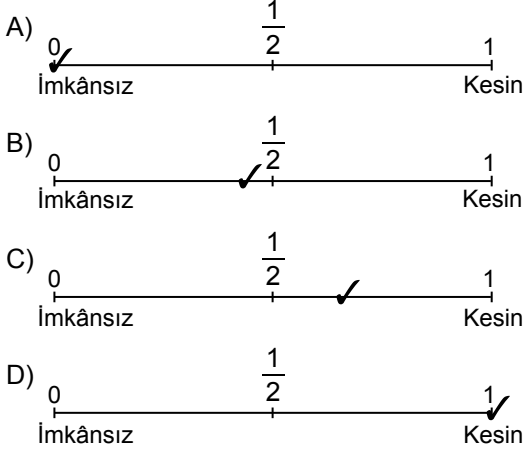
9. 5, 8, 11, 14, ... sayı örüntüsünün 12. adımındaki sayı kaçtır?

- A) 41 B) 38 C) 35 D) 32

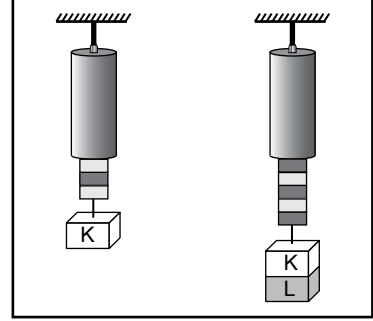
1. OTURUM

10. Bir torbanın içinde renkleri dışında özdeş 3 kırmızı, 6 sarı top vardır.

Bu torbadan rastgele çekilen bir topun sarı olma olasılığı aşağıdaki olasılık spektrumlarından hangisinde doğru işaretlenmiştir?



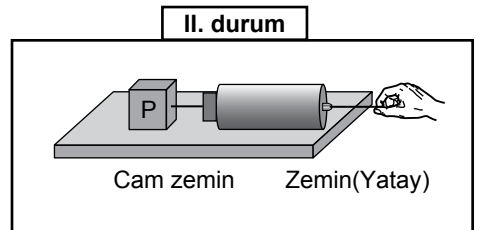
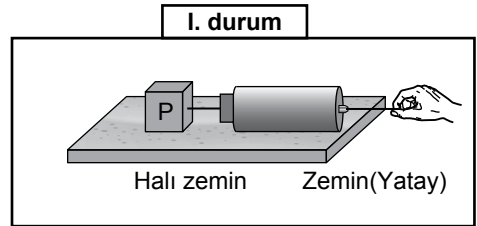
2. Özdeş 10 bölmeden oluşan en fazla 150 N'lık kuvvet ölçebilen özdeş dinamometreler kullanılarak bir deney yapılıyor. Dinamometrelerden birine K cismi tek başına asılırken diğer dinamometreye K ve L cisimleri birlikte asılıyor. Her iki dinamometrenin yaylarındaki uzama miktarları şekilde verilmiştir.



Buna göre, K ve L cisimlerinin ağırlıkları kaç N'dır?

	K	L
A)	60	100
B)	45	30
C)	50	20
D)	45	55

3. Özdeş dinamometreler kullanılarak yapılan bir deneyde P cismi, I. durumda halı zemin II. durumda ise cam zeminde ayrı ayrı şekildeki gibi yerleştiriliyor. Her iki durumda da P cismini harekete geçirebilen en az kuvvet özdeş dinamometrelerle ölçülüyor. I. durumda dinamometrede ölçülen değer 6 N'dır.

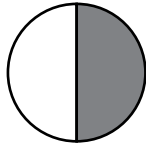


Buna göre, II. durumda dinamometrede ölçülen değer aşağıdakilerden hangisi olabilir?

- A) 10 N B) 8 N C) 7 N D) 4 N

(552) FEN BİLİMLERİ – 5

1. Siyah kısmın karanlığı, beyaz kısmın aydınlığı temsil ettiği Ay'ın evresi görselde verilmiştir.



Buna göre, Ay'ın bu evresinden yaklaşık bir hafta sonra görülen ana evresi aşağıdakilerden hangisidir?

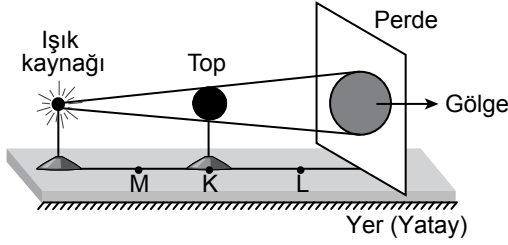
- A) İlk dördün B) Dolunay
C) Yeni Ay D) Hilal

1. OTURUM

4. Aşağıdakilerden hangisi opak (saydam olmayan) maddeye örnektir?

- A) Buzlu cam
B) Akvaryum camı
C) Kitap
D) Şeffaf dosya

5. Bir ışık kaynağının önündeki K noktasına yerleştirilen ve saydam olmayan bir topun gölgesi perde üzerinde şekildeki gibi oluşmuştur.

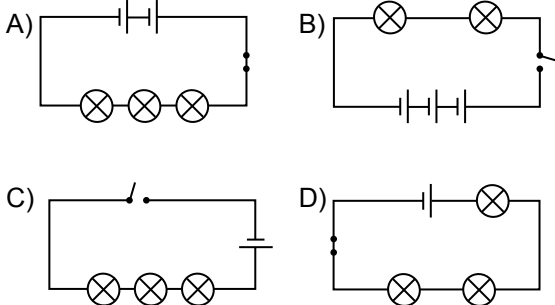


Buna göre, top önce K noktasından L noktasına, daha sonra K noktasından M noktasına getirildiğinde gölgenin büyüklüğündeki değişim aşağıdakilerin hangisinde doğru verilmiştir?

	K noktasından L noktasına getirildiğinde	K noktasından M noktasına getirildiğinde
A)	Azalı	Azalı
B)	Artar	Azalı
C)	Artar	Artar
D)	Azalı	Artar

6. Bir öğrenci 2 pil, 3 ampul, 1 kapalı anahtar ve bağlantı kablosu kullanarak bir elektrik devresi kurmak istiyor.

Buna göre, öğrencinin kuracağı elektrik devresinin devre şeması aşağıdakilerden hangisidir?



7. Aşağıdakilerden hangisi bir maddenin katı, sıvı ve gaz hâlleri için ortak bir özelliktir?

- A) Belirli bir hacmi ve şekli vardır.
B) Tanecikleri dönme ve öteleme hareketi yapar.
C) Tanecikleri arasında boşluk çok fazladır.
D) Tanecikleri titreşim hareketi yapar.

8. Isı kavramıyla ilgili,

- I. Kalorimetre kabıyla hesaplanır.
II. Enerji türüdür.
III. Birimi derece Celsius (°C)'tur.

İfadelerinden hangileri doğrudur?

- A) Yalnız I
B) Yalnız III
C) I ve II
D) II ve III

9. Aşağıdakilerden hangisi kısa kemik çeşidine örnektir?

- A) Kafatası kemiği
B) Ayak bilek kemikleri
C) Kaburga kemikleri
D) Leğen kemiği

10. Hücrenin ihtiyacı olan proteini üreten yapı aşağıdakilerden hangisidir?

- A) Ribozom
B) Golgi cisimciği
C) Lizozom
D) Hücre duvarı

1. OTURUM

(633) SOSYAL BİLGİLER – 6

1. Millî Mücadele yıllarında Kastamonu kenti ayrı bir önem taşıyordu. O dönemde Anadolu'daki en güvenli yerlerden biri Kastamonu ilinin İnebolu Limanı'ydı. Millî Mücadele'nin başarıya ulaşabilmesi için bu limandan cephane sevk edilmesi gerekiyordu. İnebolu'ya ulaşan silah ve cephaneler, limandan demirciler ve kayıkçılar tarafından karaya taşındı. Daha sonra bu hayati malzemeler; kadınlar, yaşlılar ve çocuklar tarafından Ankara'ya ulaştırıldı. İşte bu sebeple İnebolu'dan Ankara'ya uzanan bu yola "İstiklal Yolu" denmektedir.

Bu bilgide, Türk halkının sahip olduğu aşağıdaki değerlerin hangisinden bahsedilmektedir?

- A) Hoşgörü
B) Dürüstlük
C) Millî birlik ve beraberlik
D) Aile birliğine önem verme

2. Türkiye, Ekvator'a göre kuzey yarım kürede ve başlangıç meridyenine göre doğu yarım kürede yer alır. Türkiye'nin en güney noktası, Hatay ilinin Yayladağı ilçesine bağlı Topraktutan köyüdür. En kuzey noktası ise Sinop ilindeki İnceburun'dur. En batı noktası Gökçeada, en doğu noktası ise Iğdır ilindeki Dilucu'dur. Bu uç noktalara göre Türkiye, 36°- 42° kuzey paralelleri ile 26°- 45° doğu meridyenleri arasında yer almaktadır.

Bu bilgide, Türkiye'yle ilgili aşağıdakilerin hangisinden bahsedilmektedir?

- A) Göreceli konumu
B) Jeopolitik özellikleri
C) İklim özellikleri
D) Mutlak konumu

3. Türkiye'de farklı tarihlerde yayımlanmış haber başlıkları aşağıda verilmiştir.
- Millî Ağaçlandırma Günü'nde binlerce fidan toprakla buluşturuldu.
 - Temizlenen Eber Gölü hayat buldu.
 - Dicle Nehri ve Havzası, arıtma tesisleriyle kirlilikten korunuyor.

Bu haber başlıkları aşağıdakilerden hangisiyle ilgilidir?

- A) Kaynakların israfını önlemek
B) Tarihî eserleri restore etmek
C) Doğal çevreye sahip çıkmak
D) Organik tarımı yaygınlaştırmak

4. İslamiyet öncesi Türk devletlerinde kurultay, devletin tüm önemli işlerinin görüşüldüğü bir yerdi. Burada askerî, siyasi, ekonomik, kültürel, sosyal meselelere çözüm bulunmaktaydı. Kağan, kurultayın başkanıydı. Kurultaya kağanın eşi, boy beyleri ve devletin ileri gelenleri de katılırdı. Burada alınan kararlar, kağana tavsiye niteliğindedir. Son söz kağana aitti.

Buna göre, kurultayla ilgili aşağıdakilerden hangisine ulaşılabilir?

- A) Halkın oylarıyla seçilen devlet adamlarından oluşmaktadır.
B) Danışma meclisi özelliği taşımaktadır.
C) Yeni kağanın belirlenmesinde rol oynamaktadır.
D) Töre adı verilen hukuk kurallarını belirlemektedir.

5. Abbâsîler Dönemi'nde Bağdat'ta bilimsel faaliyetlerin merkezi olan kurum aşağıdakilerden hangisidir?

- A) Suffe
B) Divan
C) Dârü'l-imâre
D) Beytülhikme

1. OTURUM

6. Karahanlılar, İslam dininin kabulüyle birlikte mimari yapılarda heykel ve tasvir yapma yerine bezemeye geçmişlerdir. Karahanlı hükümdarlar matematik, geometri alanında uzman olan âlimlere ihtisamlı bezemeler yaptırmışlardır. Bunun sonucunda geometrik şekillerden meydana gelen çok farklı bezemelerin yanında bitkisel bezemeler de geliştirilmiştir.

Bu bilgide, Karahanlıların hangi alana yönelik faaliyetlerinden bahsedilmektedir?

- A) Sanat
B) Eğitim
C) Hukuk
D) Ekonomi

7. Anadolu'da - - - - Savaşı'ndan sonra başlayan Türk hâkimiyeti, yeni bir devir açmıştır. İslami eserler ve İslami yaşayış tarzı, Anadolu'nun çehresini bütünüyle değiştirmiştir. Türkler, Anadolu'ya ebediyen silinmeyecek damgalarını vurmuşlardır. Böylece bu savaş, "devlet ve vatan kuran zafer" olarak gerçek değerini kazanmıştır.

Bu bilgide boş bırakılan yere aşağıdakilerden hangisi getirilmelidir?

- A) Pasinler
B) Talas
C) Kösedâğ
D) Malazgirt

8. Eymen, okulun ilk haftasında yaşadıklarını şöyle anlattı: "Okul idaresi, öğretmenler ve öğrencilerin bulunduğu bir toplantı yapıldı. Bu toplantıda okul kurallarının belirlenmesine yönelik ortak bir çalışma yapılmasına karar verildi. Bunun için bir sandık hazırlandı. Herkes kendi fikirlerini yazıp hazırlanan sandığa attı. Görevli öğrenciler, sandıktaki fikirleri bir tablo şeklinde düzenleyerek bir hafta boyunca okul panosunda paylaştı. Sonrasında okul genelinde bir oylama yapılarak uyulması gereken okul kuralları belirlendi."

Eymen'in okulundaki bu uygulama, demokrasinin aşağıdaki niteliklerinden hangisine örnek oluşturur?

- A) Millî egemenlik
B) Katılım
C) Çoğulculuk
D) Hukukun üstünlüğü

9. "Elazığ'da çıkarılan krom; uçak, gemi ve otomotiv sanayisinde kullanılmaktadır." **diyen bir sosyal bilgiler öğretmeni aşağıdaki kaynaklardan hangisine dayalı ekonomik faaliyetten bahsetmiştir?**

- A) Su
B) Orman
C) Maden
D) Toprak

10. Dünya, ulaşım ve iletişim araçları sayesinde zaman ve mekân anlamında küçülmüş; insanlar, devletler ve kültürler arası ilişkiler dünya ölçeğinde giderek yoğunlaşmıştır. Başka bir deyişle, eskiden ancak makul mesafedeki insanlarla bireysel ilişki kurulabilirken günümüzde zaman ve mekân kavramı aşarak kıtalar arası mekânlardaki toplumlarla bile sosyal, ekonomik ve kültürel ilişki kolayca kurulabilir hâle gelmiştir.

Bu bilgide bahsedilen kavram aşağıdakilerden hangisidir?

- A) Küreselleşme
B) Patent
C) Yapay zekâ
D) Popüler kültür

(634) İNGİLİZCE – 6

1 - 8. sorularda boş bırakılan yere/yerlere uygun gelen kelime ya da ifadeyi işaretleyiniz.

1. **Ella** : What are you doing right now?
Rose : I - - - - .

- A) am painting a picture
B) always walk my dog
C) like studying history
D) am older than you

2. **Teddy** : - - - - ?
Frank : It is spring.

- A) Where is the weather always hot and dry
B) Who feels scared on snowy days
C) How do you feel on stormy nights
D) What is your favorite season

1. OTURUM

3. **Sally** : Which rides do you like at the funfair?
Mary : - - - - .

- A) The library is smaller than the museum
- B) I enjoy bumper cars and the carousel
- C) We can go to the downtown by train
- D) It's open at the weekend

4. **I can give advice to people about the law and speak for them in court. I am a/an - - - - .**

- A) astronaut
- B) engineer
- C) doctor
- D) lawyer

5. **Hazel** : Where did you stay on your holiday?
Cindy : - - - - .

- A) For two weeks
- B) Last summer
- C) At a hotel
- D) By plane

6. **I was in the library and I - - - - yesterday.**

- A) borrowed a magazine
- B) look for a dictionary
- C) am reading a book
- D) prefer newspapers

7. **We should - - - - because they clean the air and provide oxygen.**

- A) plant more trees
- B) pollute the water
- C) waste energy
- D) harm animals

8. **Paul was one of the candidates for the classroom presidency and he - - - - a speech last week.**

- A) gives
- B) likes giving
- C) is giving
- D) gave


9. **Brian's Weekend Routine**

09:30 a.m.	Get up
10:00 a.m.	Have breakfast
02:00 p.m.	Run errands
03:30 p.m.	Meet friends

Bu tabloya göre, aşağıdakilerden hangisi yanlıştır?

- A) Brian gets up at half past nine.
- B) Brian has breakfast at ten o'clock.
- C) Brian runs errands at ten past nine.
- D) Brian meets his friends at half past three.

10.



Matt's favorite meal is breakfast, and he usually has - - - - for breakfast.

Görsele göre, bu cümlede boş bırakılan yere aşağıdakilerden hangisi getirilmelidir?

- A) muffin and pancakes
- B) butter and honey
- C) olives and eggs
- D) bagels and sausages

(634) ALMANCA – 6

1 - 5. sorularda boş bırakılan yere/yerlere uygun gelen kelime ya da ifadeyi işaretleyiniz.

1. **Meine Eltern haben dem Polizisten gefragt, - - - - zum Bahnhof gehen kann.**

- A) wie man
- B) mit wer
- C) was man
- D) wie viele

2. **Lehrer** : „Wir machen am Freitag einen Klassenausflug.“

Der Lehrer sagt, - - - - wir am Freitag einen Klassenausflug machen.

- A) denn
- B) dass
- C) ob
- D) weil

1. OTURUM

3. A : Könntest du mir sagen, - - - -?
B : Ja natürlich, um 19.00 Uhr.

- A) was ihr von Beruf seid
B) wie ihr zur Arbeit geht
C) wo du arbeitest
D) wann deine Arbeit endet

4. Jeden Morgen gehe ich immer mit - - - - Hund spazieren.

- A) meinem B) mein
C) meiner D) meinen

5. Unsere Theater AG - - - - immer um 17.00 Uhr.

- A) geht B) anfangen
C) endet D) beginnen

6. Hande wird mit Ayşe für einen Monat zum Urlaub nach Berlin fahren.

Verilen cümlede altı çizili kısım aşağıdaki sorulardan hangisinin cevabıdır?

- A) Wie lange? B) Womit?
C) Mit wem? D) Wohin?

7. Welches ist ein Beruf?

- A) die Apotheke B) der Tierarzt
C) das Gericht D) der Flughafen

8. "breit" sıfatının zıt anlamlısı aşağıdakilerden hangisidir?

- A) eng B) jung
C) kurz D) dünn

9. Aşağıdakilerden hangisinde birleşik isim doğru oluşturulmuştur?

- A) die Uhr + die Wand = die Uhrwand
B) die Zeit + die Öffnung = die Zeitöffnung
C) der Tisch + die Lampe = die Tischlampe
D) das Plakat + der Film = der Plakatfilm

10. Aşağıdaki sözcüklerden hangisi çoğuldur?

- A) die Farbe B) die Tiere
C) die Mappe D) die Klasse

(634) FRANSIZCA – 6

1 - 9. sorularda boş bırakılan yere/yerlere uygun gelen kelime ya da ifadeyi işaretleyiniz.

1. Istanbul est une ville plus - - - - que Kayseri.

- A) grande B) petite
C) calme D) passive

2. Il fait très froid et - - - -. L'hiver est n'est pas une saison préférable pour moi.

- A) il fait 30 degrés
B) il pleut tout le temps
C) il neige partout
D) il y a du soleil toute la journée

3. Le lac, la montagne, la forêt ... j'adore - - - -.

- A) la culture
B) la vie professionnelle
C) la grande ville
D) la campagne

4. Un vétérinaire, c'est une personne qui soigne - - - -.

- A) les animaux
B) les plantes
C) les enfants
D) les voitures

5. Le professeur - - - -.

- A) donne des devoirs à ses élèves
B) travaille à l'hôpital
C) fait le pain tous les jours
D) conduit le train

1. OTURUM

(635) DİN KÜL. VE AHLAK BİLGİSİ – 6

6. Ma mère est malade, alors je me suis réveillé à 7 heures et - - - - pour mon père et ma sœur.

- A) j'ai regardé la télé
- B) j'ai préparé le petit-déjeuner
- C) j'ai mangé une pizza
- D) j'ai appelé le médecin

7. Dix, Vingt, Trente, Quarante, Cinquante, Soixante, - - - -, Quatre-vingts, Quatre-vingt-dix, Cent.

- A) Soixante-seize
- B) Six-cent-un
- C) Soixante-dix
- D) Soixante-douze

8. Pour protéger la Terre, - - - -.

- A) il faut gaspiller l'eau
- B) Il faut prendre un bain, pas une douche
- C) Il faut jeter les déchets dans la rivière
- D) il faut économiser l'énergie

9. Au théâtre, sur scène, ce sont des acteurs et actrices; mais au cirque, ce sont - - - -.

- A) des dessinateurs et des assistants
- B) des animateurs et des réalisateurs
- C) des clowns et des acrobates
- D) des artistes et des musiciens

10.



Qu'est-ce qu'elle a fait hier soir ?

- A) Elle a écrit une lettre à son ami.
- B) Elle a acheté un crayon.
- C) Elle a lu un roman.
- D) Elle a téléphoné à son amie.

1. "Allah'a itaat edin, resule de itaat edin ve kötülüklerden sakının. Eğer itaatten yüz çevirirseniz bilin ki resulümüzün vazifesi apaçık duyurmak ve bildirmektir."

(Maide suresi, 92. ayet)

Bu ayette altı çizili bölümle peygamberlerin aşağıdaki görevlerinden hangisi kastedilmektedir?

- A) Tebliğ
- B) Temsil
- C) Tezkiye
- D) Tebşir

2. Peygamberler örnek bir kul, iyi bir evlat, eş, baba, komşu ve yönetici olarak diğer insanlara rehber olmuştur. Toplumsal sorunları çözmek için büyük gayret göstermiş, böylece huzurlu bir toplumun oluşmasına katkıda bulunmuşlardır. İman edip güzel davranışlarda bulunanları cennetle müjdelemişler, uyarıları dikkate almayanların karşılaşılabilecekleri olumsuz sonuçlara da dikkat çekmişlerdir.

Bu metinden peygamberlerle ilgili aşağıdakilerden hangisi çıkarılamaz?

- A) İnsanlara görev ve sorumluluklarını hatırlatmışlardır.
- B) Allah'tan aldıkları mesajların nasıl uygulanacağını öğretmişlerdir.
- C) Allah'ın izniyle birtakım olağanüstü olaylar göstermişlerdir.
- D) İnsanların dünya ve ahiret mutluluğunu hedeflemişlerdir.

3. "... Ramazan ayına ulaşanlar o ayda oruç tutsun. Kim hasta veya yolcu olursa tutamadığı günler sayısınca başka günlerde eksik kalan kısmını tamamlasın. Allah size kolaylık diler, zorluk dilemez..."

(Bakara suresi, 185. ayet)

Bu ayette bahsedilen oruç aşağıdakilerden hangisidir?

- A) Muharrem
- B) Kaza
- C) Adak
- D) Kefaret

1. OTURUM

4. Kağan'ın "oruç ibadetinin insana faydaları" konusuyla ilgili hazırladığı sunuda şu bilgiler bulunmaktadır:

Oruç, ahlaki değerlerin birey ve topluma kazandırılmasında etkili bir ibadettir. Orucun anlam ve önemini kavrayan insan, güzel davranışlar sergilemeye çalışır. Olumsuz durumlar karşısında duygu, düşünce ve davranışlarını kontrol etmeye gayret eder.

Bu sunumu bir hadisle desteklemek isteyen Kağan, aşağıdakilerden hangisini kullanmalıdır?

- A) "Allah bu ayda size oruç tutmayı farz kıldı."
B) "Tuttuğunuz her oruç bir sadakadır."
C) "Oruç tutunuz ki sıhhat bulasınız."
D) "Oruç sabrın yarısıdır."

5. I. Türkçenin doğru kullanımına özen gösterilmelidir.
II. Paylaşılacak bilgilerin doğruluğu kontrol edilmelidir.
III. Kimlik ve iletişim bilgileri herkese açık şekilde paylaşılmalıdır.
IV. Mahremiyetin korunmasına özen gösterilmelidir.
V. Yüz yüze iletişimde yapılamayacak davranışlar sosyal medya aracılığıyla sergilenmelidir.

Bu ifadelerden hangileri sosyal medyayı kullanırken dikkat edilmesi gereken adap ve nezaket kurallarına uygundur?

- A) I, II ve III
B) I, II ve IV
C) II, III ve V
D) III, IV ve V

6. Haberlerde, 5 yaşındaki Ayşe'nin sokakta oynarken yere düşmüş bayrağı fark ettiği görüntüler yayımlandı. Ayşe yerden bayrağı aldıktan sonra öpüp alına koydu. Hırkasının içinde koruyarak evinin yolunu tuttu. Şehrin valisi bu görüntülerden sonra Ayşe ve ailesini tebrik etti.

Buna göre, Ayşe'de aşağıdaki ahlaki davranışlardan hangisinin gelişmiş olduğu söylenebilir?

- A) Doğru sözlü olmak
B) Merhamet
C) Vatan sevgisi
D) Nezaket

7. Cahiliye Dönemi sadece tarihî bir zaman dilimini değil, aynı zamanda bir zihniyeti temsil etmektedir. Hz. Muhammed (sav) de Cahiliye Dönemi'ne geçmişte yaşanmış bir dönem olarak bakmamıştır. Özellikle Veda Hutbesi'nde, bu dönemin tekrar yaşanabileceğini hatırlatarak Müslümanlardan Cahiliye Dönemi'nin olumsuz davranışlarından uzak durmalarını istemiştir.

Buna göre, aşağıdakilerden hangisi bu davranışlardan biridir?

- A) Haksızlığa uğrayan insanlara yardım etmek
B) Şiir ve hitabet sanatına önem vermek
C) Soy ve serveti, üstünlük nedeni saymak
D) Çeşitli sosyal etkinliklere katılmak

8. Fil Vakası ile ilgili aşağıdaki bilgilerden hangisi Fil suresinde geçmektedir?

- A) Hz. Muhammed'in doğumundan önce gerçekleştiği
B) Kâbe'nin yerine ziyaret edilmesi için Sana şehrinde bir kilise yapıldığı
C) Ebrehe'nin askerlerinin, Mekkelilerin sürülerini yağmaladığı
D) Kuşların, fil ordusuna balçıktan pişirilmiş taşlar yağdırdığı

9. Doğum, ölüm, sünnet töreni, asker uğurlama, kandil geceleri ve hac dönüşü gibi günlerde bir araya gelinerek mevlit programları düzenlenir. Böylelikle insanlar birbirleriyle kaynaşırlar. Bu programlarda Kur'an'dan sureler ve Mevlid-i Şerif'ten bölümler okunur, dua edilir, ilahiler söylenir, tekbir ve salavatlara eşlik edilir. Mevlidin bitiminde gül suyu, akide şekeri, lokum ve küçük hediyeler dağıtılır.

Bu metinden aşağıdakilerin hangisine ulaşamaz?

- A) İyi ve kötü günde beraber olmak insanların arasındaki bağı güçlendirir.
B) Din, ortak duyguları harekete geçirmede musikiden yararlanır.
C) Âdetlerin oluşmasında ve şekillenmesinde etkili unsurlardan biri dindir.
D) İslam kültürünün etkisi mimari yapılarda da kendini göstermektedir.

1. OTURUM

10. Üç aylardan biri olan ramazan ayının içinde bin aydan daha hayırlı olduğu bildirilen, Kur'an'ın indirilmeye başlandığı gece yer almaktadır.

Bu cümlede aşağıdaki önemli günlerin hangisinden söz edilmiştir?

- A) Miraç
B) Kadir
C) Mevlit
D) Berat

(730) TÜRKÇE – 7

1. "Düz" sözcüğü aşağıdakilerin hangisinde "yalın, sade, süssüz olan" anlamında kullanılmıştır?

- A) Dizleri ağrıdığı için genelde tabanı düz ayak-kabılar giyerdi.
B) Onu gördüğümde üzerinde düz bir kıyafet vardı.
C) Elindeki tebeşirle tahtaya düz bir çizgi çizdi.
D) Düz bir tabaktan çorba içilemeyeceğini biliyordu.

2. Yatmadan önce yarım saat kitap okumayı huy edinmişti.

Aşağıdakilerin hangisinde bu cümledeki altı çizili deyim anlamını karşılayan bir söz kullanılmıştır?

- A) Bu tatil ona çok iyi gelmiş, ruhsal olarak rahatlamıştı.
B) Öyle çok değişmişti ki eski hâlden eser kalmamıştı.
C) Daha çocukken yatağını toplama alışkanlığı kazanmıştı.
D) Birkaç gün izin alsa iş yerinde her şey altüst oluyordu.

3. Aşağıdaki cümlelerin hangisinde "olasılık" anlamı vardır?

- A) Millî takımın maçı için haftaya İstanbul'a gidebilirim.
B) Ödevi zamanında hazırlayıp teslim etmeliydim.
C) Endişelenme, bu sorunu tek başıma halledebilirim.
D) Sokaklarımızın temizliğine gereken özeni göstermeliyiz.

4. Aşağıdaki cümlelerin hangisinde altı çizili sözcük durum filidir?

- A) Erken vakitte evin arka kapısından sokağa çıktık.
B) Akşamları yalnızca bir bardak süt içer.
C) Küçük çocuk, hırkasının düğmelerini ilikledi.
D) Balkonun demirleri rutubetten paslanmış.

5. Manavgat'ın dünyaca ünlü yarımadası Side'nin adı, 3 bin yıl önce kentte konuşulan dilden günümüze yadigar. Tarihçilerin "Sidece" diye adlandırdıkları bu dilde, kentin adı kutsal bir meyveden gelmekteydi: Nar. "Çok taneli" bu meyveyi kendine sembol yapan bu kent, değerli bir liman kenti olarak Lidya'dan Selçukluya nice uygarlıklar saklamış koynunda. Bugün her adımda rastladığımız tarihî miras, zamanın tanığı olarak zihnimize kazınıyor.

Bu parçada "Side" ile ilgili aşağıdakilerin hangisine değinilmemiştir?

- A) Bazı tarihî eserlerin varlığını sürdürdüğüne
B) Ne zaman kurulduğuna
C) Adının nereden geldiğine
D) Farklı kültürlerle ev sahipliği yaptığına

6. 1. Bugün sadece küçük bir bölümü okunabilen kitabesiyle varlığını sürdüren Kuruçeşme Han'ı, bu iki hanın ortasında yer alıyordu.
2. Geçmişte Anadolu'daki antik yol ağında en stratejik kısımlardan biri Beyşehir'i Konya'ya bağlayan bölümdü.
3. Bunlardan biri şu anda baraj gölü sularının altında kalan Altınapa, bir diğeri birkaç yıl önce restore edilmiş Kızılören Hanı.
4. Bu yolun varlığının en büyük göstergesi, yakın zamana kadar bu güzergâhta ayakta kalabilmiş üç Selçuklu hanıydı.

Numaralanmış cümlelerle düşünce akışına göre bir metin oluşturulduğunda hangisi baştan ikinci olur?

- A) 1
B) 2
C) 3
D) 4

1. OTURUM

7. Fobi; insanın bir durum, olgu, obje veya canlı karşısında duyduğu ve gündelik hayatını etkileyen ileri düzeydeki korku, endişe ve kaçınma hâlidir. Korku kaynağına göre farklı sebepleri olabilen fobiler genellikle deneyimler sonucu ortaya çıkar. Bir hayvanın saldırısına uğrayan birinin o hayvanın fotoğrafına dahi bakamayacak kadar korkması, deneyim sonucu oluşmuş bir fobidir. Bazı fobilerin ise kalıtsal özellikleri vardır. Kan görünce fenalaşma veya bayılma ile kendini gösteren, halk arasında kan tutması olarak bilinen kan fobisi kalıtsaldır.

Bu parçanın anlatımında aşağıdaki düşünceyi geliştirme yollarından hangisi kullanılmıştır?

- A) Tanımlama - Benzetme
B) Tanımlama - Örneklendirme
C) Tanık gösterme - Örneklendirme
D) Tanık gösterme - Benzetme

8. Mehmet Efendi'nin kendi kasabasında yirmi dönüm bahçesi vardı. Erenköy'deki bu bahçenin Ethem Efendi Caddesi'ne bakan bölümünde çam ağaçları, Tren İstasyonu'na bakan bölümdeyse meyve ağaçları ve sebzelikler vardı.

Bu parçadaki numaralanmış sözlerin hangisinde büyük harflerin yazımıyla ilgili bir yanlışlık yapılmıştır?

- A) 1 B) 2 C) 3 D) 4

9. Aşağıdaki cümlelerin hangisinde virgül (,) yanlış kullanılmıştır?

- A) Çarşıda çok oyalanmadık, deniz kenarında yürüdüük.
B) İnsanlık ölmedi kardeşim, diye durumu özetledi.
C) Bulvarı ikiye ayıran ağaçlıklı, çiçekli refüje çıktılar.
D) Kısa sürede onunla can, ciğer arkadaş olduklar.

10. Tabloda bazı ülkelerin yıllara göre buğday ekim alanları ve üretim miktarları verilmiştir.

BUĞDAY EKİM ALANLARI VE ÜRETİM MİKTARLARI				
Ülke	2023		2024	
	Ekim Alanı (bin hektar)	Üretim Miktarı (milyon ton)	Ekim Alanı (bin hektar)	Üretim Miktarı (milyon ton)
Hindistan	30,5	104	31,4	136
Çin	23,5	137,7	24,1	110
Rusya	28,8	92	29,1	91

Bu tablodan aşağıdaki yargıların hangisine ulaşılamaz?

- A) 2024 yılında tüm ülkelerin ekim alanlarında artış olmuştur.
B) Ekim alanının artması üretimin artacağı anlamına gelmez.
C) Yıllara göre ülkelerin buğday üretimi artmıştır.
D) Rusya'nın buğday üretimi her iki yılda da diğer ülkelerden azdır.

(731) MATEMATİK – 7

1. $(+6)^2 \cdot (-1)^5 \cdot (-3)^2$ işleminin sonucu kaçtır?

- A) -360 B) -324
C) 324 D) 360

2. -27'den küçük en büyük negatif tam sayı ile -12'den büyük en küçük negatif tam sayının toplamı kaçtır?

- A) -43 B) -41
C) -39 D) -37

1. OTURUM

3. $-\frac{5}{6}, -\frac{3}{4}, -\frac{4}{5}$ rasyonel sayılarının küçükten büyüğe doğru sıralanışı aşağıdakilerden hangisidir?

- A) $-\frac{5}{6} < -\frac{4}{5} < -\frac{3}{4}$
B) $-\frac{3}{4} < -\frac{4}{5} < -\frac{5}{6}$
C) $-\frac{3}{4} < -\frac{5}{6} < -\frac{4}{5}$
D) $-\frac{5}{6} < -\frac{3}{4} < -\frac{4}{5}$

4. $\frac{5}{2} + \frac{6 - \frac{2}{3}}{1 + \frac{2}{3}}$ işleminin sonucu kaçtır?

- A) $\frac{43}{10}$ B) $\frac{47}{10}$ C) $\frac{53}{10}$ D) $\frac{57}{10}$

5. Ahmet 180 sayfalık bir kitabın birinci gün $\frac{1}{5}$ 'ini, ikinci gün kalanın $\frac{5}{9}$ 'unu okuyor.

Buna göre, Ahmet ikinci günün sonunda toplam kaç sayfa kitap okumuştur?

- A) 100 B) 116 C) 120 D) 144

6. 6 kg süttan 1050 gr peynir elde edildiğine göre, 2 kg süttan kaç gram peynir elde edilir?

- A) 175 B) 225 C) 320 D) 350

7. %120'si 138 olan sayı kaçtır?

- A) 115 B) 112 C) 110 D) 106

8. Bir çiftlikte $(2x + 3)$ tane tavuk, $(x - 2)$ tane koyun vardır.

Buna göre, tavuk ve koyunların ayak sayılarının toplamını veren cebirsel ifade aşağıdakilerden hangisidir?

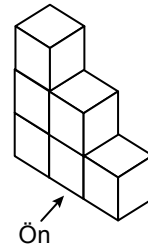
- A) $10x + 8$ B) $10x - 1$
C) $8x + 1$ D) $8x - 2$

9. Ali'nin bugünkü yaşı, Ayşe'nin 3 yıl sonraki yaşının 2 katına eşittir.

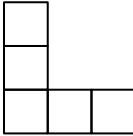

Ali ile Ayşe'nin yaşları farkı 10 olduğuna göre, Ali'nin bugünkü yaşı kaçtır?

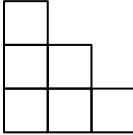

- A) 14 B) 17 C) 23 D) 26

10. Şekildeki yapı 6 adet eş birimküpten oluşmuştur.



Buna göre, aşağıdakilerden hangisi bu yapının önden görünümüdür?

- A)  B) 

- C)  D) 

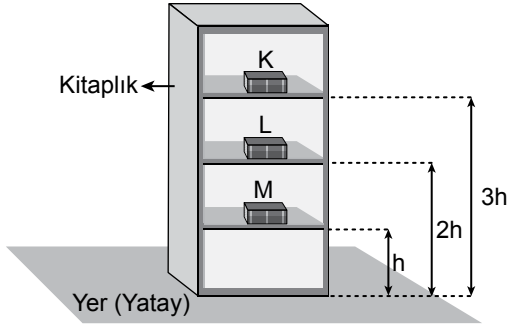
1. OTURUM

(732) FEN BİLİMLERİ – 7

1. Aşağıdakilerden hangisi bir takım yıldızı değildir?

- A) Boğa B) Küçükayı
C) Karadelik D) Avcı (Orion)

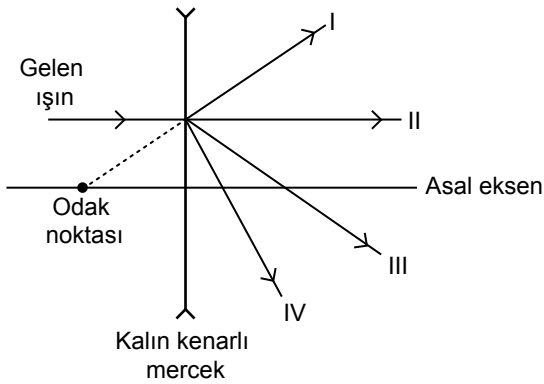
2. Bir kitaplığın yerden yükseklikleri belirtilen raflarına eşit kütleli K, L ve M kitapları şekildeki gibi yerleştiriliyor.



Buna göre, bu kitapların potansiyel enerjileri arasındaki ilişki aşağıdakilerin hangisinde doğru verilmiştir?

- A) $L > M > K$ B) $M > L > K$
C) $K = L = M$ D) $K > L > M$

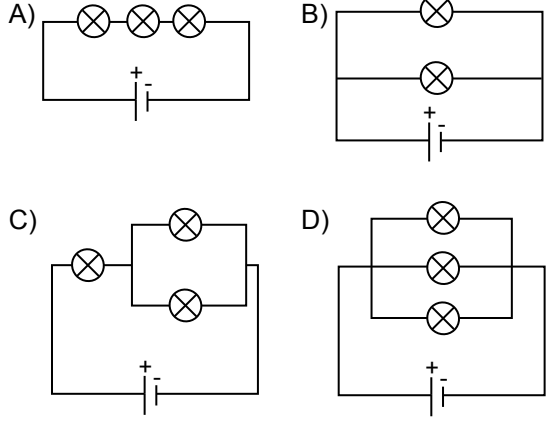
3. Hava ortamında bulunan bir kalın kenarlı merceğin asal eksenine paralel gelen ışık ışını ile bu ışının mercekten kırıldıktan sonra izleyebileceği yollar şekilde numaralandırılarak verilmiştir.



Buna göre, bu ışık ışını merçekte kırıldıktan sonra izleyeceği yol aşağıdakilerden hangisidir?

- A) I B) II C) III D) IV

4. Özdeş pil, ampul ve kablolar kullanılarak oluşturulan aşağıdaki basit elektrik devrelerinden hangisinde ampullerin tamamı birbirine seri bağlanmıştır?



5. Bir maddeye ait özellikler şu şekildedir:

- Molekül yapılı bileşiktir.
- Üç tane atom içerir.
- İki çeşit atom içerir.

Buna göre, bu maddenin tanecik modeli aşağıdakilerden hangisi olabilir?



6. Aşağıdakilerden hangisi Kükürt elementinin sembolüdür?

- A) C B) Al C) Li D) S

7. Aşağıdakilerden hangisi heterojen karışıma örnek değildir?

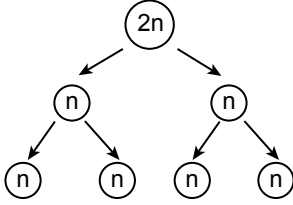
- A) Çorba B) Toprak
C) Süt D) Şekerli su

1. OTURUM

8. Soğan zarı hücresinde bulunup ağız içi epitel hücresinde bulunmayan yapı aşağıdakilerden hangisidir?

- A) Mitokondri
- B) Kloroplast
- C) Golgi cisimciği
- D) Endoplazmik retikulum

9. $2n$ kromozomlu bir hücrede gerçekleşen bölünme ve bölünme sonucu oluşan hücreler şekilde gösterilmiştir.



Buna göre, bu bölünmeyle ilgili aşağıdakilerden hangisi doğrudur?

- A) Vücut hücrelerinde gerçekleşir.
- B) Mitoz olarak adlandırılır.
- C) Eşeyli üreyen canlılarda üreme hücrelerinin oluşumunu sağlar.
- D) Oluşan hücrelerin genetik yapısı ana hücre ile aynıdır.

10. Bazı bitkilerin kopan veya kesilen kök, gövde, dal ve yaprak gibi kısımlarının köklendirilerek yeni bir bitkinin oluşmasını sağlayan üreme çeşidi aşağıdakilerden hangisidir?

- A) Bölünerek Üreme
- B) Vejetatif Üreme
- C) Tomurcuklanarak Üreme
- D) Rejenerasyonla Üreme

(834) T.C. İNKILAP TARİHİ VE ATATÜRKÇÜLÜK – 8

1. Avrupa'da seri üretim yapan büyük fabrikaların kurulmasını sağlayan gelişme aşağıdakilerden hangisidir?

- A) Rönesans
- B) Reform hareketi
- C) Sanayi İnkılabı
- D) Fransız İhtilali

2. İtalya'nın Osmanlı toprağı olan Trablusgarp'a asker çıkarması üzerine Osmanlı Devleti, Mustafa Kemal'in de içinde olduğu bazı gönüllü subayları Trablusgarp'a gönderdi. Mustafa Kemal burada halkı örgütleyerek Derne ve Tobruk'ta İtalyanlara karşı önemli başarılar kazandı.

Bu bilgide, Mustafa Kemal'in aşağıdaki kişilik özelliklerinin hangisinden bahsedilmektedir?

- A) Çok yönlülüğü
- B) Teşkilatçılığı
- C) İleri görüşlülüğü
- D) İnkılapçılığı

3. I. Dünya Savaşı'nda İngiltere ve Fransa'nın Boğazlardan geçerek Karadeniz'e ulaşmak ve müttefikleri Rusya'ya askerî, siyasi yardımda bulunmak amacıyla açtığı cephe aşağıdakilerden hangisidir?

- A) Kafkas
- B) Irak
- C) Kanal
- D) Çanakkale

4. Osmanlı Devleti ile İtilaf Devletleri arasında imzalanan Mondros Ateşkes Antlaşması'nın bazı maddeleri şunlardır:

- Boğazlar açılacak ve her iki Boğaz da İtilaf Devletlerince kontrol edilecektir.
- Sınırların korunması ve iç düzenin sağlanması için belirlenen Osmanlı askerleri dışındaki kuvvetler terhis edilecektir.

Buna göre, İtilaf Devletlerinin amacı aşağıdakilerden hangisidir?

- A) Osmanlı Devleti'ni savunmasız hâle getirmek
- B) Almanya ile savaşmak için yeni cepheler açmak
- C) Osmanlı topraklarındaki azınlık isyanlarını engellemek
- D) ABD'nin sömürgecilik karşıtı politikalarını desteklemek

1. OTURUM

5. İtilaf Devletlerinin, 16 Mart 1920'de İstanbul'u resmen işgal etmelerine sebep olan gelişme aşağıdakilerden hangisidir?

- A) TBMM'nin Ankara'da açılması
- B) Mustafa Kemal'in Temsil Heyetinin başkanı seçilmesi
- C) Tekalif-i Millîye Emirleri'nin yayımlanması
- D) Osmanlı Mebusan Meclisinde Misakımillî'nin kabul edilmesi

6. Lozan Barış Antlaşması'nın "Yunanistan, verdiği zarara karşılık Karaağaç kasabasını Türkiye'ye verecektir." maddesi aşağıdaki koulardan hangisiyle ilgilidir?

- A) Dış borçlar
- B) Azınlıklar
- C) Savaş tazminatı
- D) Kapitülasyonlar

7. Kurtuluş Savaşı üzerine yazılan ilk roman olan "Ateşten Gömlek" aşağıdaki yazarlardan hangisine aittir?

- A) Tarık Buğra
- B) Samim Kocagöz
- C) Halide Edip Adıvar
- D) Yahya Kemal Beyatlı

8. Atatürk "Artık hükümet ile millet arasında mazideki ayrılık kalmamıştır. Hükümet millettir ve millet hükümettir." sözüyle aşağıdakilerden hangisine vurgu yapmıştır?

- A) Tam bağımsızlığa
- B) Ulusal egemenliğe
- C) Sosyal devlet anlayışına
- D) Kanun önünde eşitliğe

9. Aşağıdakilerden hangisi "Tevhid-i Tedrisat Kanunu"nun kabul edilmesi sonucunda yaşanan gelişmelerdendir?

- A) Meclis hükümeti sisteminden kabine sistemine geçilmesi
- B) Yeni Türk alfabesinin kullanılmaya başlanması
- C) Erkan-ı Harbiye Vekâletinin kaldırılarak yerine Genel Kurmay Başkanlığının kurulması
- D) Farklı sistemlerle eğitim veren tüm okulların Millî Eğitim Bakanlığına bağlanması

10. Aşağıdakilerden hangisi Atatürk Dönemi Türk dış politikasında yaşanan gelişmelerden değildir?

- A) II. Dünya Savaşı'nda Türkiye'nin tarafsız kalması
- B) Balkan Antantı'nın kurulması
- C) Musul'un İngiliz mandasındaki Irak'a bırakılması
- D) Montrö Boğazlar Sözleşmesi'nin imzalanması

(835) İNGİLİZCE – 8

1 - 10. sorularda boş bırakılan yere/yerlere uygun gelen kelime ya da ifadeyi işaretleyiniz.

1. Harold : How about going to a restaurant to eat something?

Gilbert : - - - - . I'm stuffed.

- A) Good idea
- B) No, thanks
- C) I'd love some
- D) That would be great

2. Diana : How often do you read the news online?

Lauren : - - - - .

- A) By bus
- B) At home
- C) Twice a day
- D) Almost everything

1. OTURUM

3. Greg prefers sour food, - - - - is his favourite.

- A) lemon B) honey
C) banana D) chocolate

4. Betty : Where are you Carol? I'm waiting for you at the café for half an hour.

Carol : - - - - .

- A) Put me through to Carol
B) For English, please press 9
C) This is Michelle Daisy calling
D) Sorry, I'll be there in five minutes

5. My father doesn't like using the social networking sites because he thinks that excessive use - - - - .

- A) can cause Internet addiction
B) helps to learn about the news
C) is the best way to communicate
D) provides entertainment for people

6. I would rather do indoor sports because they are - - - - than extreme sports.

- A) safe B) the safest
C) very safe D) safer

7. Matt : - - - - ?

Fred : Sightseeing.

- A) When did you go abroad
B) How long did you stay there
C) What kind of holiday did you have
D) Which countries did you visit last year

8. Sam enjoys helping his parents with the chores, and he is in charge of - - - - the dinner at weekends.

- A) preparing B) dusting
C) feeding D) ironing

9. Johannes Gutenberg - - - - the printing press in 1450.

- A) invents B) invented
C) will invent D) is inventing

10. I think there will be serious - - - - , so teachers should educate students not to waste water.

- A) tornados B) tsunamis
C) landslides D) droughts

(835) ALMANCA – 8

1 - 5. sorularda boş bırakılan yere/yerlere uygun gelen kelime ya da ifadeyi işaretleyiniz.

1. Merve will später Tierärztin werden, - - - - sie Tiere sehr liebt.

- A) weil B) obwohl
C) denn D) deshalb

2. Ali wünschte, wir - - - - alle im August Ferien, um zusammen in den Urlaub zu fahren.

- A) waren B) hätten
C) würdest D) hättest

3. A : - - - - und - - - - habt ihr ein neues Haus gekauft?

B : Wir haben ein neues Haus in Bodrum im Juni gekauft.

- A) Wer / wie
B) Was / wann
C) Wann / womit
D) Wo / wann

4. Wenn ihr nach Stuttgart fahren - - - - , müsst ihr auf dem Bahnsteig 7 warten.

- A) will B) wollen
C) willst D) wollt

1. OTURUM

(835) FRANSIZCA – 8

1 - 8. sorularda boş bırakılan yere/yerlere uygun gelen kelime ya da ifadeyi işaretleyiniz.

5. Die Jungen helfen - - - - alten Mann beim Autowaschen.

- A) den B) dem
C) die D) der

6. Serkan und Metin studieren an der Universität. Serkan ist in der ersten und Metin in der dritten Klasse. Das Studium dauert vier Jahre lang.

Wie lange müssen sie noch studieren?

- A) Serkan 2 Jahre und Metin 1 Jahr lang.
B) Serkan 1 Jahr und Metin 3 Jahre lang.
C) Serkan 3 Jahre und Metin 1 Jahr lang.
D) Serkan 4 Jahre und Metin 2 Jahre lang.

7. Hallo Liebe Mutter,

Ich habe in Köln angefangen zu studieren. Es gefällt mir sehr hier. In meiner Klasse sind viele Studenten aus verschiedenen Ländern. Wir lernen uns gegenseitig kennen. An Wochenenden gehen wir in der Stadt spazieren. In den Ferien wollen wir auch in andere Städte fahren, um das Land näher kennenzulernen.

Bis bald
Deine Melis

Was kann man nicht sagen?

- A) Sie hatte vorher in Köln studiert.
B) Sie lernt andere Menschen kennen.
C) In den Ferien will sie andere Orte besichtigen.
D) Melis studiert in Deutschland.

8. Welches ist kein besonderer Tag?

- A) Ostern B) Vatertag
C) Hochzeit D) Nachmittag

9. In welcher Jahreszeit ist der Monat **Dezember**?

- A) Winter B) Frühling
C) Sommer D) Herbst

10. Welches ist kein Getränk?

- A) Apfelsaft B) Wasser
C) Orangen D) Tee

1. On doit utiliser - - - - si on veut écrire quelque chose sur un fichier.

- A) l'imprimante B) le clavier
C) la souris D) le réseau

2. Quand j'étais petit, je - - - - moi-même mes chaussures.

- A) choisissait B) choisirai
C) choisissais D) choisissez

3. La ville d'Istanbul est - - - - belle que la ville de Paris.

- A) aussi B) moins de
C) autant D) meilleure

4. Quand il neige, la route est glissante et très dangereuse. Vous devez - - - -.

- A) allumer les phares
B) aller plus vite
C) stopper le moteur
D) rouler lentement

5. Marie Curie est une physicienne et chimiste. En 1911 elle obtient - - - - pour ses travaux sur le polonium et le radium.

- A) la première caméra
B) l'intensité du courant électrique
C) le prix Nobel de chimie
D) la première à calculer

6. Pour lutter contre le tremblement de terre, il faut - - - -.

- A) se déplacer avec un parapluie
B) construire des maisons parasismiques
C) empêcher l'eau d'entrer dans la maison
D) aérer et nettoyer le sol de la maison

1. OTURUM

7. Les animaux savent à l'avance qu'--- va avoir lieu. Pour les scientifiques, c'est tout à fait normal.

- A) un déchet toxique
- B) une maladie infectieuse
- C) une provocation sociale
- D) une catastrophe naturelle

8. Ali utilise l'internet pour - - - -.

- A) faire ses devoirs
- B) pratiquer la natation
- C) promener son chien
- D) se laver les mains

9.



Görselle ifade edilen uyarı aşağıdakilerden hangisidir?

- A) Il faut céder la place aux personnes âgées.
- B) Il ne faut pas laisser les enfants seuls.
- C) Il faut jeter les déchets dans la poubelle.
- D) Il ne faut pas marcher sur la pelouse.

10.



Görselle ifade edilen uyarı aşağıdakilerden hangisidir?

- A) Ne pas stationner !
- B) Ne pas tourner à droite !
- C) Interdit aux animaux !
- D) Ne pas aller à gauche !

(836) DİN KÜL. VE AHLAK BİLGİSİ – 8

1. Aşağıdaki ayetlerden hangisinde “cüzi irade” kavramına işaret edilmiştir?

- A) “Allah kimseye muhtaç değildir. Herkes O'na muhtaçtır.”
(İhlas suresi, 2. ayet)
- B) “Sizler ancak Allah'ın dilemesi sayesinde dileyebilirsiniz...”
(İnsan suresi, 30. ayet)
- C) “Yalnızca azamet ve ikram sahibi Rabbinin zâtı, baki kalacaktır.”
(Rahman suresi, 27. ayet)
- D) “Allah, yaratan, yoktan var eden, şekil verendir...”
(Haşr suresi, 24. ayet)

2. İsrailoğullarına gönderilmiş peygamberlerden biridir. Kendisine destek olması için Hz. Harun görevlendirilmiştir. O, tebliğ görevini sabırla yerine getirmiştir.

Bu metinde bahsedilen peygamber aşağıdakilerden hangisidir?

- A) Hz. Şuayb
- B) Hz. Yusuf
- C) Hz. Musa
- D) Hz. Nuh

3. Bakara suresinin 255. ayeti; Allah'ın tek, yüce, ilim, kudret sahibi olduğu ve hükümranlılığının yeri ve göğü kuşattığından bahsettiği için bu ismi almıştır.

Bu cümle aşağıdakilerden hangisiyle ilgilidir?

- A) Adetullah
- B) Ayetelkürsi
- C) Sünnetullah
- D) Esmayhüsna

1. OTURUM

4. "Güneşin doğduğu her gün, sadaka vermek gerekir. İki kişinin arasını düzeltmen sadakadır. Güzel söz sadakadır. Namaza giderken attığın her adım sadakadır. Yoldaki rahatsızlık veren şeyleri kaldırmaman sadakadır."

Bu hadisten "sadaka" ile ilgili aşağıdakilerden hangisine ulaşamaz?

- A) İbadet değerinin bulunduğuna
- B) Günahların affına vesile olduğuna
- C) Çeşitli şekillerde uygulanabildiğine
- D) Maddi yardımlarla sınırlı olmadığına

5. Selçuklu ve Osmanlı döneminde, Hz. Muhammed'in (sav) sadakayla ilgili uygulamalarının örnek alınmasıyla gelişen - - - - kültürü; medrese, imarethane ve darüşşifa gibi eserlerin ortaya çıkmasına olanak sağlamıştır.

Bu cümlede boş bırakılan yere aşağıdakilerden hangisi getirilmelidir?

- A) vakıf
- B) şûra
- C) tebliğ
- D) vahiy

6. Aşağıdakilerden hangisi İslam dininde "akıl korunması" ilkesiyle doğrudan ilgilidir?

- A) Haksız kazanç yollarının kapatılması
- B) Alkollü içeceklerin yasaklanması
- C) Şirkin, büyük günahlar arasında sayılması
- D) Aile kurmanın teşvik edilmesi

7. Aşağıdakilerden hangisi güvenilir olmanın teşvik edildiği hadislerden biri değildir?

- A) "Bizi aldatan bizden değildir."
- B) "Kendisinden emin olunmayan kimse cennete giremez."
- C) "Emanete riayeti olmayanın imanı zayıftır."
- D) "Rızık konusunda ümitsizliğe düşmeyin."

8. • Kuran-ı Kerim'in isimlerinden biridir.

- Hakkı batıldan ayıran ölçü anlamına gelir.
- Kur'an-ı Kerim'de aynı isimde bir sure bulunur.

Bu açıklamalar aşağıdaki kavramlardan hangisine aittir?

- A) Furkan
- B) Rahmet
- C) Mushaf
- D) Fıtrat

9. Kur'an-ı Kerim ile ilgili aşağıdakilerden hangisi söylenemez?

- A) Yirmi üç yılda parça parça indirilmiştir.
- B) Hz. Muhammed'e verilmiş bir mucizedir.
- C) Ezberlenerek ve yazılarak günümüze ulaşmıştır.
- D) Gönderilen ilk ilahi kitaptır.

10. Aşağıdakilerden hangisi "dinin inanma ve ibadet etme ihtiyacını karşılaması" ile ilgilidir?

- A) Temel hakları korumaya önem vermesi
- B) İnsanların mutluluğunu hedeflemesi
- C) Yaratıcıya kulluk etmeyi emretmesi
- D) Özgür iradeye dayalı olması

CEVAP KÂĞIDI VE SORU KİTAPÇIĞI İLE İLGİLİ AÇIKLAMALAR

1. Cevap kâğıdınızdaki bilgilerin doğruluğunu kontrol ediniz ve cevap kâğıdınızı imzalayınız.
2. Cevap kâğıdı üzerinde kodlamalarınızı siyah kurşun kalemle yapınız.
3. Değiştirmek istediğiniz bir cevabı, yumuşak silgiyle cevap kâğıdını yıpratmadan temizce siliniz ve yeni cevabınızı kodlayınız.
4. Soru kitapçığının sayfalarını görevlilerin uyarıları doğrultusunda kontrol ediniz, baskı hatası var ise değiştirilmesini sağlayınız.
5. Soruların çözümü için size ayrıca boş kâğıt verilmeyecektir. Soru kitapçığının içindeki boş alanları soru çözümleri için kullanabilirsiniz.
6. Her sorunun dört seçeneğinden sadece biri doğrudur. Doğru seçeneği, cevap kâğıdınızın ilgili sütununa soru numarasını dikkate alarak yuvarlağın dışına taşımadan kodlayınız. Soru kitapçığı üzerinde yapılan cevaplandırmalar dikkate alınmayacaktır.
7. Cevaplamaya istediğiniz dersin sorusundan başlayabilirsiniz. Cevabını bilmediğiniz sorular üzerinde fazla zaman kaybetmeden diğer sorulara geçiniz. Zamanınız kalırsa bu sorulara daha sonra dönebilirsiniz.
8. Yanlış cevaplarınız dikkate alınmadan sadece doğru cevaplarınız üzerinden puanlama yapılacaktır.
9. Soruları ve sorulara verdiğiniz cevapları, yanınızda götürmek amacıyla kaydetmeyiniz; hiçbir şekilde dışarı çıkarmayınız.
10. Sınav bitiminde soru kitapçığı ve cevap kâğıdını salon görevlilerine teslim ediniz.
11. Aday tarafından cevap kâğıdına yazılması veya işaretlenmesi gereken bilgilerde eksiklik ya da yanlışlık olması durumunda sorumluluk adaya ait olacaktır.

SALON GÖREVLİLERİNCE SINAV BAŞLAMADAN ÖNCE ADAYLARA YAPILACAK SON UYARILAR

- Soracağınız bir şey varsa şimdi sorunuz, sınav başladıktan sonra sorularınıza cevap verilmeyecektir.
- Başlama zilini bekleyiniz.

Hepinize başarılar dileriz.

(Salon başkanı başlama ve bitiş saatini tahtaya yazacaktır.)

Bu kitapçığın her hakkı saklıdır. Hangi amaçla olursa olsun, kitapçığın tamamının veya bir kısmının Millî Eğitim Bakanlığı Ölçme, Değerlendirme ve Sınav Hizmetleri Genel Müdürlüğü'nün yazılı izni olmadan kopya edilmesi, fotoğraflarının çekilmesi, bilgisayar ortamına alınması, herhangi bir yolla çoğaltılması, yayımlanması veya başka bir amaçla kullanılması yasaktır. Bu yasağa uymayanlar, doğabilecek cezai sorumluluğu ve kitapçığın hazırlanmasındaki mali külfeti peşinen kabullenmiş sayılır.

**20 ARALIK 2025 TARİHİNDE YAPILAN
AÇIK ÖĞRETİM ORTAOKULU 2025-2026 ÖĞRETİM YILI
1. DÖNEM SINAVI 1. OTURUM CEVAP ANAHTARI**

(550) TÜRKÇE – 5

1. C
2. A
3. B
4. D
5. D
6. B
7. A
8. C
9. D
10. A

(552) FEN BİLİMLERİ – 5

1. C
2. B
3. D
4. C
5. D
6. A
7. D
8. C
9. B
10. A

(634) İNGİLİZCE – 6

1. A
2. D
3. B
4. D
5. C
6. A
7. A
8. D
9. C
10. B

(634) FRANSIZCA – 6

1. A
2. C
3. D
4. A
5. A
6. B
7. C
8. D
9. C
10. C

(551) MATEMATİK – 5

1. A
2. B
3. C
4. D
5. B
6. C
7. D
8. A
9. B
10. C

(633) SOSYAL BİLGİLER – 6

1. C
2. D
3. C
4. B
5. D
6. A
7. D
8. B
9. C
10. A

(634) ALMANCA – 6

1. A
2. B
3. D
4. A
5. C
6. D
7. B
8. A
9. C
10. B

**(635) DİN KÜLTÜRÜ VE
AHLAK BİLGİSİ – 6**

1. A
2. C
3. B
4. D
5. B
6. C
7. C
8. D
9. D
10. B

**20 ARALIK 2025 TARİHİNDE YAPILAN
AÇIK ÖĞRETİM ORTAOKULU 2025-2026 ÖĞRETİM YILI
1. DÖNEM SINAVI 1. OTURUM CEVAP ANAHTARI**

(730) TÜRKÇE – 7

1. B
2. C
3. A
4. A
5. B
6. D
7. B
8. D
9. D
10. C

(732) FEN BİLİMLERİ – 7

1. C
2. D
3. A
4. A
5. C
6. D
7. D
8. B
9. C
10. B

(835) İNGİLİZCE – 8

1. B
2. C
3. A
4. D
5. A
6. D
7. C
8. A
9. B
10. D

(835) FRANSIZCA – 8

1. B
2. C
3. A
4. D
5. C
6. B
7. D
8. A
9. B
10. C

(731) MATEMATİK – 7

1. B
2. C
3. A
4. D
5. B
6. D
7. A
8. D
9. A
10. C

**(834) T.C. İNKILAP TARİHİ
VE ATATÜRKÇÜLÜK – 8**

1. C
2. B
3. D
4. A
5. D
6. C
7. C
8. B
9. D
10. A

(835) ALMANCA – 8

1. A
2. B
3. D
4. D
5. B
6. C
7. A
8. D
9. A
10. C

**(836) DİN KÜLTÜRÜ VE
AHLAK BİLGİSİ – 8**

1. B
2. C
3. B
4. B
5. A
6. B
7. D
8. A
9. D
10. C